

SOAL DAN PEMBAHASAN LATIHAN TWK TIU TKP

Pembahasan Lihat Bagian Akhir

1. Paham yang menetapkan agama sebagai hukum politik dalam dunia modern, merupakan jenis ideologi ...
 - A. Liberalisme
 - B. Fundamentalisme
 - C. Monarkisme
 - D. Kapitalisme
 - E. Sosialisme

2. Kemampuan ideologi dalam mempengaruhi dan sekaligus menyesuaikan diri dengan pertumbuhan atau perkembangan masyarakatnya disebut dimensi ...
 - A. Realita
 - B. Idealisme
 - C. Fleksibilitas
 - D. Kerohanian
 - E. Dinamis

3. Pancasila adalah sumber nilai. Adapun nilai dalam pancasila yang sifatnya abstrak dan umum sehingga memerlukan penafsiran ulang sesuai keadaan bangsa dan perkembangan zaman disebut nilai ...
 - A. Dasar
 - B. Instrumental
 - C. Praksis
 - D. Dominan
 - E. Yang mendarah daging

4. Berikut ini merupakan nilai yang terkandung dalam pancasila sila pertama adalah ...
 - A. Mewujudkan keadilan secara merata
 - B. Mengembangkan jiwa kemapusiaan
 - C. Menghormati pemeluk agama lain saat beribadah
 - D. Mewujudkan persatuan dan kesatuan bangsa
 - E. Mewujudkan kehidupan masyarakat yang demokratis

5. Pembukaan UUD 1945 tercantum dalam Piagam Jakarta yang disahkan pada tanggal ...
 - A. 29 Mei 1945
 - B. 1 Juni 1955
 - C. 22 Juni 1945
 - D. 14 Juni 1945
 - E. 17 Agustus 1945

6. Pasal 29 UUD 1945 ayat (2) menyatakan negara menjamin kemerdekaan tiap-tiap penduduk untuk memeluk agamanya masing-masing dan beribadat menurut agama dan kepercayaannya itu. Oleh karena itu, kebebasan beragama diartikan sebagai ...
 - A. Kebebasan yang bersumber pada martabat manusia sebagai makhluk ciptaan Tuhan
 - B. Kebebasan untuk menentukan dan memilih agama yang dianut serta berpindah-pindah.
 - C. Kebebasan dalam menjalankan ibadah kapan saja dan dimana saja.

- D. Kebebasan melakukan penyembahan dan membentuk aliran baru keagamaan
E. Kebebasan untuk memeluk atau tidak memeluk salah satu agama resmi
7. Berikut ini ketentuan yang tidak tercantum dalam UUD 1945, yaitu ...
A. Pembagian kekuasaan
B. Bentuk negara
C. Tunjangan pejabat negara
D. Sistem pemerintahan
E. UUD 1945 merupakan hukum dasar
8. Berikut ini yang *bukan* termasuk pokok sistem pemerintahan dalam UUD 1945 adalah
A. Indonesia adalah negara hukum
B. Sistem konstitusional
C. Sistem parlementer
D. Kekuasaan kepala negara tidak tak terbatas
E. Presiden tidak bertanggung jawab kepada DPR
9. Berikut ini yang bukan merupakan tujuan konstitusi adalah ...
A. Sebagai hukum dari segala sumber hukum
B. Membatasi kekuasaan penguasa agar tidak sewenang-wenang.
C. Melindungi HAM.
D. Sebagai pedoman penyelenggaraan negara.
E. Menjadi media pengendali kekuasaan yang tak terbatas
10. Asas dalam negara hukum yang mengutamakan landasan peraturan perundang-undangan, kepatuhan, dan keadilan dalam setiap kebijakan penyelenggaraan negara disebut asas ...
A. Akuntabilitas
B. Profesionalitas
C. Proporsionalitas
D. Kepastian hukum
E. Tertib penyelenggaraan negara
11. Di bawah ini adalah contoh negara yang terbentuk dari *occupatie*, yaitu..
A. Jerman
B. India
C. Kongo
D. Liberia
E. Yugoslavia
12. Pada tanggal 22 juni 1945, BPUPKI membentuk panitia kecil yang beranggotakan sembilan orang. Berikut ini termasuk anggota panitia sembilan, *kecuali* ...
A. Muh. Yamin
B. Ahmad subardjo
C. A.A. Maramis
D. Supomo
E. Abikusno Cokrosuyoso

13. Suatu batas laut yang ditarik dari sebuah garis dasar dengan jarak 12 mil ke arah laut disebut batas ...
- A. Landas kontinen
 - B. Zona Ekonomi Eksklusif
 - C. Laut Teritorial
 - D. Daerah Pabean
 - E. Batas kedaulatan
14. Setiap negara memiliki sifat tidak tetap dan harus mengalami perubahan. Oleh karena itu, harus dikembangkan pola pemerintahan yang relatif tahan terhadap gejolak yang akan datang. Hal ini disebut juga ...
- A. Kompleksitas
 - B. Keragaman
 - C. Integritas
 - D. Dinamika
 - E. Pluralitas
15. Pasal yang menggambarkan keanekaragam-an Agama di Indonesia adalah ..
- A. Pasal 28 ayat 1
 - B. Pasal 29 ayat 2
 - C. Pasal 30 ayat 2
 - D. Pasal 28A ayat 1
 - E. Pasal 28A ayat 2
16. Orang yang mengusulkan pertama kali agar Bhinneka Tunggal ika dijadikan semboyan Bangsa adalah...
- A. Ir Soekarno
 - B. Moh Hatta
 - C. Muh Yamin
 - D. Mpu Tantular
 - E. H.O.S. Tjokroaminoto
17. Pasal 18, Pasal 18A, dan Pasal 18 B dalam perubahan UUD 1945 berisi tentang ...
- A. Hak Asasi Manusia
 - B. Kebebasan Beragama
 - C. Pemerintah daerah
 - D. Demokrasi
 - E. Kedaulatan Wilayah RI
18. Sistem pemerintahan presidensial disebut juga sebagai *fixed executive* karena ...
- A. Masa jabatan para menteri tidak ditentukan oleh kepercayaan parlemen
 - B. Kabinet dapat dijatuhkan oleh parlemen melalui mosi tidak percaya
 - C. Para menteri tidak bertanggung jawab kepada parlemen
 - D. Para menteri bertanggung jawab kepada presiden
 - E. Presiden sewaktu-waktu dapat membubarkan kabinet
19. Berdasarkan UUD 1945, yang memegang kekuasaan eksekutif adalah ...

- A. Presiden
B. MA
C. Presiden dan para menteri (kabinet)
D. DPR
E. MPR
20. Gubernur, bupati, dan walikota, masing-masing sebagai kepala pemerintah daerah provinsi, kabupaten, kota dipilih melalui ...
A. Mekanisme demokratis
B. Pemilihan langsung
C. Pemilihan oleh parpol mayoritas
D. Pemilihan oleh kalangan menengah atas
E. Semua jawaban salah.
21. Otonomi Daerah diatur dalam Undang-Undang (UU) nomor ...
A. 25 tahun 1992
B. 25 tahun 1999
C. 8 tahun 2001
D. 23 tahun 2004
E. 32 tahun 2004
22. Sumber hukum yang berasal dari keyakinan, kesadaran individu dan pendapat umum disebut sumber hukum ...
A. Formal
B. Materiel
C. Yurisprudensi
D. Traktat
E. Konvensi
23. Upaya pemerintah dalam pemberantasan tindakan pidana korupsi diatur dalam ...
A. UU No. 20 Tahun 1971 jo UU No. 22 Tahun 1999
B. UU No. 31 Tahun 1999 jo UU No. 20 Tahun 2001
C. UU No. 3 Tahun 1971 jo UU No. 2 Tahun 2000
D. UU No. 4 Tahun 1967 jo UU No. 1 Tahun 2001
E. UU No. 4 Tahun 1967 jo UU No. 2 Tahun 2001
24. Berdasarkan paham yang dianut, demokrasi diklasifikasikan menjadi tiga bagian, yaitu ...
A. Demokrasi langsung, tidak langsung, dan demokrasi terpimpin
B. Demokrasi Liberal, komunis, dan gabungan
C. Demokrasi terpimpin, pancasila, dan parlementer
D. Demokrasi langsung, pancasila dan parlementer
E. Demokrasi referendum, dengan pemisahan kekuasaan
25. Magna Charta merupakan kontrak atau perjanjian antara beberapa bangsawan dan raja. Di Inggris, yang berisikan tentang hal-hal berikut ini, kecuali...
A. Raja beserta keturunannya berjanji akan menghormati kemerdekaan, hak, dan kebebasan Gereja Inggris.
B. Kekuasaan raja harus dibatasi.

- C. Hak Asasi Manusia (HAM) lebih penting daripada kedaulatan, hukum atau kekuasaan.
D. Raja berjanji kepada penduduk kerajaan yang bebas untuk memberikan hak-hak.
E. Petugas pajak dapat menarik uang iuran pajak tanpa pengecualian.
26. Pergantian sistem pemerintahan yang berlaku di Indonesia pada tahun 1945 didasarkan pada ...
A. Maklumat Wakil Presiden Nomor IX Tanggal 16 Oktober 1945
B. Maklumat Wakil Presiden Nomor XI Tanggal 16 Oktober 1945
C. Maklumat Wakil Presiden Nomor XII Tanggal 16 Oktober 1945
D. Maklumat Pemerintah Tanggal 3 November 1945
E. Maklumat Pemerintah Tanggal 14 November 1945
27. Yang bukan merupakan Raja Kerajaan Singasari adalah...
A. Ken Arok
B. Anusapati
C. Tohjaya
D. Raden Wijaya
E. Kertanegara
28. Di bawah ini salah satu nama Raja Samudra Pasai adalah...
A. Sultan Malik as-Saleh
B. Sultan Ibrahim
C. Sultan Iskandar Muda
D. Raden Patah
E. Sultan Trenggono
29. Di bawah ini perjanjian yang timbul dari Perang Dunia I, kecuali..
A. Perjanjian Versailles
B. Perjanjian St. Germani.
C. Perjanjian Neulily
D. Perjanjian Trianon
E. Perjanjian Postdam
30. Negara yang termasuk dalam blok fasis dalam Perang Dunia II adalah...
A. Inggris
B. Perancis
C. Austria
D. Polandia
E. Belgia
31. Komisi PBB yang membantu menyelesaikan perselisihan antara Indonesia dan Belanda atas wilayah Irian Barat adalah...
A. UNTEA
B. UNCI
C. KTN
D. AFNEI
E. UNESCO

32. Di Yayasan Galuh, jumlah pasien usia remaja justru mendominasi, mulai dari remaja putus sekolah, remaja yang masih sekolah, remaja yang tidak diurus keluarga, hingga remaja yang memiliki obsesi tinggi, tetapi tidak kesampaian.
Kalimat inti dari kalimat luas tersebut adalah ...
- A. Jumlah pasien usia remaja mendominasi.
 - B. Pasien usia remaja memiliki obsesi tinggi.
 - C. Obsesi remaja tidak kesampaian.
 - D. Yayasan Galuh didominasi oleh berbagai masalah remaja.
 - E. Mulai remaja putus sekolah sampai remaja obsesi tinggi ada di Yayasan Galuh.

33. Otak manusia ibarat sebuah pisau. Otak manusia yang cerdas tidak akan berprestasi tinggi bila tidak belajar dan berlatih. Otak manusia yang IQ-nya sedang-sedang saja akan mendapat prestasi gemilang bila belajar terus-menerus. Demikian pula dengan pisau, sebilah pisau yang tajam akan menjadi tumpul bila tidak diasah. Sebaliknya, sebilah pisau yang tumpul akan tajam bila diasah terus-menerus. Dengan demikian, bila kita ingin berprestasi, hendaknya seperti pisau yang diasah terus.
Hal yang dianalogikan dalam paragraf di atas adalah ...
- A. Prestasi dan pisau.
 - B. Otak manusia dengan pisau.
 - C. Berlatih dengan diasah.
 - D. Manusia dengan pisau.
 - E. Kepandaian dengan ketajaman.

34. Penulisan nama dan jabatan yang tepat terdapat pada kalimat ...
- A. Ayahnya adalah seorang Gubernur.
 - B. Siapa Bupati yang baru dilantik itu?
 - C. Seminggu yang lalu Kolonel Haryono meninggal dunia.
 - D. Brigjen Sumadi baru dilantik menjadi Mayor Jenderal.
 - E. Presiden baru saja melantik beberapa menteri.

35. *Bank Indonesia menilai bahwa gejolak harga minyak internasional yang terjadi saat ini tidak akan berpengaruh yang signifikan terhadap nilai tukar rupiah. Alasannya, bahwa kebutuhan dollar AS untuk impor minyak goreng cenderung menurun.*

Kata *signifikan* pada kalimat tersebut mengandung makna yang sama dengan kata ...

- A. Secara berlebihan
- B. Secara bermakna
- C. Besar
- D. Secara kuat
- E. Secara merata

36. CERUK = _____

- A. Pusat
- B. Simpang
- C. Tanda
- D. Lekuk
- E. Poros

37. KLARIFIKASI = _____

- A. Pengaturan
- B. Penentuan
- C. Penegasan
- D. Penjelasan
- E. Pemeriksaan

38. DEPENDENSI = _____

- A. Subsidi
- B. Swadaya
- C. Mandiri
- D. Tergantung
- E. Sendiri

39. KASAR > < _____

- A. Halus
- B. Rata
- C. Lembut
- D. Gradasi
- E. Lemah

40. REAKSI > < _____

- A. Penarikan
- B. Penggabungan
- C. Daya tarik
- D. Daya tolak
- E. Penolakan

41. GENTAR > < _____

- A. Ragu
- B. Takut
- C. Berani
- D. Tantang
- E. Was-was

42. BAIT : PUISI = _____ : _____

- A. Bendera : Lagu Kebangsaan
- B. Loteng : Bangunan
- C. Sajak : Prosa
- D. Hiasan Dinding : Lukisan
- E. Sapu Tangan : Air Mata

43. MENCURI : MENYESAL = _____ : _____

- A. Mencontek : Menghukum
- B. Menanam : Menyang
- C. Memandikan : Menyelimuti
- D. Menyakiti : Menangis
- E. Mencuci : Menjahit

44. INTENSITAS : FREKUENSI = ____ : ____

- A. Jauh : Jarak
- B. Hadiah : Pengabdian
- C. Hak : Kewajiban
- D. Penghargaan : Penghormatan
- E. Panas : Suhu

45. BAWANG : SIUNG = ____ : ____

- A. Buku : Lembar
- B. Pakaian : Kodi
- C. Telur : Butir
- D. Kain : Meter
- E. Beras : Gram

46. Ada 3 jenis tiket yang tersedia untuk sebuah pertunjukkan musik: VIP Rp 25.000; kelas I Rp 12.000, dan kelas II Rp 9.000. Dalam pertunjukkan tersebut, sejumlah P tiket kelas I, B tiket kelas II, dan R tiket kelas VIP berhasil terjual. Dari pilihan dibawah ini, manakah yang menunjukkan prosentase hasil penjualan tiket kelas I ?

- A. $100 \times [P/(P + B + R)]$
- B. $100 \times [12P/(12P + 9B + 25R)]$
- C. $12P/(12P + 9B + 25R)$
- D. $100 \times [(9B + 25R)/(12P + 9B + 25R)]$
- E. $100 \times 12P[(12P + 9B + 25R)]$

47. Selusin telur dan 5 kg sawo pada saat ini harganya sama. Jika harga satu lusin telur naik 20% dan harga sawo naik 2%, berapakah tambahan uang yang diperlukan untuk membeli satu lusin telur dan 5 kg sawo?

- A. 6%
- B. 10%
- C. 2%
- D. 11%
- E. 12%

48. Perbandingan (rasio) antara pegawai laki-laki dan perempuan dalam sebuah kantor adalah 8 : 7. Diantara berikut ini, manakah yang *tidak* mungkin merupakan jumlah pegawai di kantor tersebut?

- A. 15 orang
- B. 75 orang
- C. 85 orang
- D. 90 orang
- E. 105 orang

49. Perbandingan jumlah kelereng Amat dengan Cemen adalah 7 : 5, sedangkan perbandingan jumlah kelereng Bagio dan Amat adalah 3 : 4. Jika selisih jumlah kelereng Amat dan Cemen adalah 16 buah, maka banyaknya kelereng Bagio adalah ...

- A. 56
- B. 42
- C. 40
- D. 28
- E. 30

50. Jika X adalah luas persegi yang sisinya 48 cm dan Y adalah luas lingkaran yang mempunyai diameter 56 cm, maka ...

- A. $X > Y$

- B. $X < Y$
- C. $X = Y$
- D. Hubungan X dan Y tidak dapat ditentukan
- E. $X \neq Y$

51. Salah satu sudut pada segitiga siku-siku adalah 45° . Hubungan antara panjang alas dan tinggi segitiga tersebut adalah ...

- A. Alas < tinggi
- B. Alas > tinggi
- C. Alas = tinggi
- D. Hubungan antara alas dan tinggi tidak dapat ditentukan
- E. Alas \neq tinggi

52. Jika rata-rata x , y , dan 30 adalah 10, maka rata-rata x dan y adalah ...

- A. 0
- B. 5
- C. $7\frac{1}{2}$
- D. 10
- E. 15

53. Jika $x =$ rata-rata dari $5n$, $3n$, dan 7 , $y =$ rata-rata dari $2n$, $6n$, dan 9 , maka ...

- A. $x = y$
- B. $x > y$
- C. $x < y$
- D. Hubungan x dan y tidak dapat ditentukan
- E. $x = xy$

54. Sebuah pabrik memiliki tiga buah mesin X, Y, dan Z yang digunakan untuk membuat lampu neon. Jika ketiganya bekerja, dihasilkan 249 lampu per hari. Jika X dan Y bekerja, tetapi Z tidak, dihasilkan 159 lampu per hari. Jika Y dan Z bekerja, tetapi X tidak, dihasilkan 147 lampu per hari. Produksi harian mesin Z adalah ...

- A. 90 lampu
- B. 84 lampu
- C. 73 lampu
- D. 62 lampu
- E. 60 lampu

55. Jarak Yogyakarta – Klaten di peta adalah 6 cm. Skala yang dipergunakan di peta itu adalah $1 : 700.000$. niko bersepeda dari yogyakarta ke klaten dengan kecepatan 36 km/jam. Bila Niko berangkat pada pukul 06.00, pukul berapa Niko tiba di Kalaten?

- A. pk 07.00
- B. pk 07.10
- C. pk 07.30
- D. pk 08.00
- E. pk 08.10

56. Suatu kelas terdiri atas 48 anak. Dari seluruh anak yang mengikuti kegiatan ekstrakurikuler, tercatat 20 anak mengikuti ekstra kesenian, 25 anak ekstra olahraga, 12 anak ekstra pramuka, 10 anak mengikuti ekstra kesenian dan olahraga, 5 anak mengikuti ekstra kesenian dan pramuka, 6 anak mengikuti ekstra olahraga dan pramuka, sedangkan 4 anak ekstra kesenian, olahraga, dan pramuka. Jumlah anak yang mengikuti kegiatan ekstra kulikuler adalah ...

- A. 48 anak
- B. 45 anak
- C. 40 anak
- D. 40 anak
- E. 43 anak

C. 42 anak

57. Sebuah kantong berisi 55 kelereng hitam, 60 kelereng putih, dan beberapa kelereng abu-abu. Jika diambil satu kelereng dari kantong tersebut, nilai kemungkinan terambilnya kelereng abu-abu adalah $\frac{25}{48}$. Banyaknya kelereng abu-

abu dalam kantong tersebut adalah ... butir.

- A. 135 D. 105
B. 125 E. 110
C. 115

58. 3 5 9 15 15 25 21 --- ---

- A. 35 dan 23 D. 45 dan 27
B. 35 dan 27 E. 35 dan 45
C. 45 dan 23

59. 243 81 27 9 3 1 ---

- A. $\frac{1}{2}$ D. $\frac{1}{6}$
B. $\frac{1}{3}$ E. $\frac{3}{4}$
C. $\frac{1}{4}$

60. Setiap siswa peserta kesenian adalah peserta bela diri atau renang. Tidak ada peserta bela diri atau renang yang bukan peserta melukis. Inda bukan peserta melukis.

- A. Inda adalah bukan peserta bela diri maupun kesenian.
B. Inda adalah peserta melukis dan bukan peserta kesenian.
C. Inda adalah bukan peserta kesenian, tetapi peserta renang.
D. Inda adalah peserta renang dan bukan peserta melukis.
E. Inda adalah bukan peserta kesenian tetapi peserta bela diri.

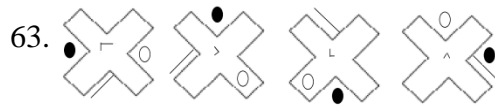
61. Anggota yang memiliki anak lebih dari tiga orang menerima piagam dan hadiah. Dedo menerima piagam organisasi, tetapi tidak menerima hadiah.

- A. Dedo adalah anggota organisasi yang anaknya kurang dari tiga orang.
B. Dedo adalah anggota organisasi yang anaknya lebih dari tiga orang.
C. Dedo adalah anggota organisasi yang berhak menerima hadiah.
D. Dedo adalah bukan anggota organisasi yang berhak menerima hadiah.
E. Dedo adalah bukan anggota yang anaknya lebih dari tiga orang.

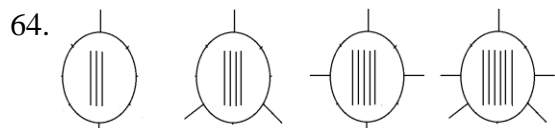
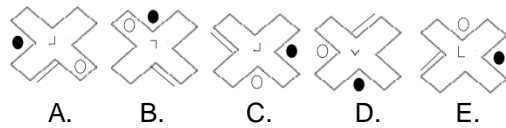
62. Semua sopir bus sering mengemudikan kendaraannya dengan kecepatan tinggi. Sebagian sopir bus yang sering mengemudikan kendaraannya dengan kecepatan tinggi, tidak pernah mengantuk saat mengemudi.

- A. Semua yang tidak pernah mengemudikan mobilnya dengan kecepatan tinggi bukan sopir bus.
B. Semua yang tidak pernah mengantuk saat mengemudikan kendaraannya bukan sopir bus.
C. Semua sopir bus tidak pernah mengantuk saat mengemudikan kendaraannya.
D. Sebagian sopir bus pernah mengantuk saat mengemudikan kendaraannya.

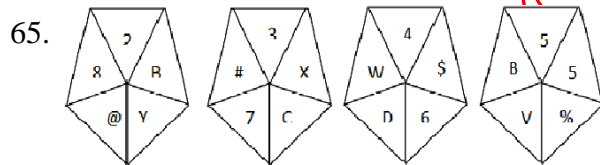
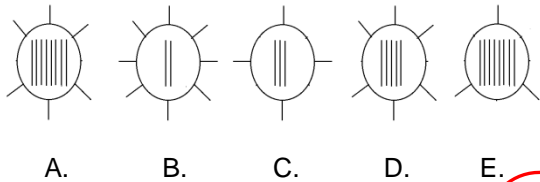
E. Sebagian sopir bus mengantuk saat mengemudikan kendaraannya dengan kecepatan tinggi.



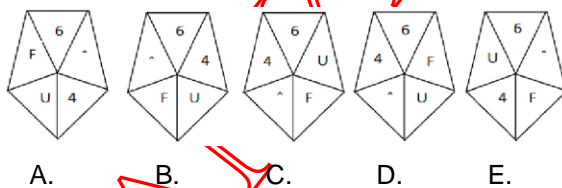
Gambar selanjutnya adalah ...



Gambar selanjutnya adalah ...



Gambar selanjutnya adalah ...



66. Pada waktu bangun tidur saya sering merasa...

- A. Tugas-tugas yang begitu banyak telah menanti saya
- B. Bersemangat untuk melakukan aktifitas sehari-hari
- C. Agak pusing jika memikirkan suasana kantor yang kurang nyaman
- D. Berharap atasan tidak akan marah lagi hari ini
- E. Berharap semoga hari ini hari baik-baik saja

67. Ketika ada salah seorang tetangga Anda meninggal dunia, maka Anda akan...

- A. Izin kepada atasan untuk tidak masuk kerja

- B. Tetap masuk kerja setelah izin terlambat karena ingin bertakziah dulu
C. Masuk kerja saja karena Anda akan bertakziah ketika pulang kerja saja
D. Menitipkan pesan bela sungkawa kepada tetangga yang lainnya saja
E. Tetap bekerja saja karena Anda tidak terlalu mengenal tetangga tersebut
68. Ketika Anda berkunjung ke sebuah pusat perbelanjaan, Anda senang jika...
- A. Keadaannya sepi
 - B. Diskonnya murah
 - C. Suasanaanya bersih dan nyaman
 - D. Para satpam dan petugas yang lainnya ramah
 - E. Tempat ibadah dan toiletnya bersih dan memadai
69. Jika ada seorang rekan yang memberikan secara langsung berkas-berkas temannya untuk ditindaklanjuti oleh Anda, maka Anda akan...
- A. Tidak mempedulikannya
 - B. Memberinya nomor urut seperti klien yang lain
 - C. Segera menindaklanjutinya
 - D. Menindaklanjutinya jika ada imbalan saja
 - E. Menindaklanjutinya karena Anda tidak enak hati dengan teman Anda itu
70. Saya berhasil mengatasi tantangan terutama karena ...
- A. Nasib baik ada di tangan saya
 - B. Saya berani mencoba hal-hal yang tidak berisiko
 - C. Saya berani mencoba dengan segala risikonya
 - D. Saya mendapat bantuan dari lingkungan
 - E. Saya tidak putus asa menghadapi kegagalan
71. Jika ada kesempatan untuk berkompetisi dalam bidang yang saya senangi, maka saya...
- A. Mengalahkan pesaing dengan meningkatkan diri
 - B. Tidak ikut kompetisi
 - C. Ikut kalau ada kemungkinan menang
 - D. Berusaha keras mengalahkan pesaing dengan mencari kelemahan mereka
 - E. Lebih baik tidak usah ikut karena khawatir akan kalah
72. Ketika Anda membawa anak Anda ke pasar, anak Anda tiba-tiba meminta untuk dibelikan permainan, maka Anda akan...
- A. Menolaknya karena harganya mahal
 - B. Menolaknya karena Anda mau ia membelinya sendiri dengan uang tabungannya
 - C. Segera membelikannya karena ia memaksa
 - D. Menolaknya karena hal tersebut tak ada dalam rencana Anda dan dia
 - E. Mengabulkannya karena Anda takut ia menangis
73. Anda senang tinggal dalam lingkungan yang...
- A. Rumahnya berdekatan
 - B. Tertutup
 - C. Sepi
 - D. Suasanaanya individual
 - E. Suasanaanya penuh kekeluargaan

74. Ketika Ketua RT Anda membutuhkan warganya untuk melakukan kerja bakti di lingkungan rumah Anda dan sekitarnya, Anda sedang sibuk. Maka Anda akan...
- Tetap ikut dalam kerja bakti walau Anda sedang punya tugas mendadak
 - Menemui Pak RT dan warga dengan membawa maaf dan makanan
 - Meminta salah seorang pekerja Anda untuk ikut serta dalam kerja bakti
 - Tidak ambil peduli dengan semua yang terjadi
 - Meminta orang lain untuk mewakili Anda dalam kerja bakti tersebut
75. Jika Anda sedang dalam keadaan yang lelah, biasanya Anda akan...
- Segera istirahat
 - Tetap menyelesaikan pekerjaan yang belum selesai
 - Memakai balsem atau sejenisnya
 - Ngobrol dengan seseorang yang lain
 - Istirahat dan tidak bisa diganggu oleh siapa pun
76. Harga-harga saat ini berubah dengan cepat dan kecenderungannya meningkat terus. Sementara pendapatan dari saya terbatas, menghadapi keadaan ini saya..
- Membuat rancangan penggunaan keuangan secara lebih hati-hati
 - Merancang penggunaan uang sekaligus minta tambahan gaji
 - Marah terhadap situasi yang tidak menentu
 - Mengurangi pengeluaran untuk hal-hal yang tidak cocok
 - Meminta tambah uang saku dari orang tua
77. Jika Anda sedang memiliki banyak pekerjaan dan atasan Anda memberi pekerjaan yang baru lagi kepada Anda padahal pekerjaan sebelumnya belum Anda selesaikan, maka Anda akan...
- Menerimanya dan mengatakan bahwa pekerjaan sebelumnya belum selesai
 - Menerimanya dan meminta rekan kerja Anda untuk menyelesaikannya
 - Memintanya untuk memberikan pekerjaan tersebut kepada rekan Anda yang lain
 - Menolaknyanya karena Anda sudah memiliki banyak pekerjaan
 - Menolaknyanya karena Anda ingin memberikan pekerjaan juga kepada rekan Anda yang lain
78. Jika Anda sudah tidak memiliki pekerjaan apa pun di kantor, maka Anda akan...
- Bersantai-santai hingga datang pekerjaan selanjutnya
 - Tidak mungkin karena pekerjaan saya tidak akan ada habisnya
 - Meminta pekerjaan kepada atasan Anda
 - Menawarkan diri kepada rekan kerja Anda yang mungkin sedang kerepotan
 - Menikmati keadaan kantor saja sebelum Anda kembali sibuk
79. Saat saya menghadiri pernikahan seorang kerabat dari luar kota bersamaan dengan itu ada tugas kantor, sedangkan minggu lalu saya sudah membolos saya akan..
- Mempersiapkan diri sejak awal dan membicarakannya dengan pimpinan untuk menyelesaikan tugas di hari lain
 - Melaksanakan tugas sungguh-sungguh dan inilah kesempatan untuk memperbaiki kinerja saya
 - Meminta izin tidak dapat mengikuti tugas hari ini
 - Mengerjakan tugas dengan sungguh-sungguh
 - Memilih pergi dan berusaha sebaik mungkin pada tugas berikutnya

80. Anda memiliki keinginan untuk mendirikan sebuah lembaga pendidikan yang...
- A. Berkualitas
 - B. Terjangkau
 - C. Elite
 - D. Mahal
 - E. Berakhlak
81. Ketika muncul suatu masalah dalam pekerjaan yang kebetulan ada katitannya dengan hal-hal yang menjadi kewajiban saya, maka saya...
- A. Akan bertanggung jawab
 - B. Membiarkan masalah tetap berlangsung
 - C. Melihat dulu adakah orang lain yang juga turut bersalah
 - D. Mungkin ada pihak lain yang harusnya bertanggung jawab
 - E. Mempertimbangkan kemungkinan bahwa saya tidak bersalah akan hal itu
82. Nonton film pada saat jam kantor menurut saya...
- A. Boleh saja
 - B. Tidak boleh
 - C. Boleh asal pimpinan menyetujui
 - D. Boleh asal pekerjaan sudah selesai
 - E. Boleh asal tidak ketahuan
83. Menyediakan jajanan di meja kerja kantor menurut saya...
- A. Boleh saja asal tidak terlalu banyak
 - B. Boleh asal bagi-bagi dengan atasan
 - C. Tidak boleh
 - D. Meminta ijin atasan dulu
 - E. Boleh asal atasan juga melakukan
84. Ketika berkunjung ke kantor klien yang akan Anda audit, Anda mendapatkan uang dari klien sebagai pengganti transport, maka Anda akan....
- A. Menerimanya sepanjang tidak diketahui oleh rekan yang lain
 - B. Mengembalikan dengan halus
 - C. Marah karena klien telah berusaha menyogok Anda
 - D. Menolak bila disuruh atasan
 - E. Menolak karena Anda tahu itu gratifikasi
85. Sehubungan dengan pekerjaan Anda, kantor Anda memeberikan jatah uang makan sebesar Rp.500.000,- untuk makan siang setiap harinya. Uang tersebut akan diganti seusai dengan bukti pembayaran makan siang. Namun menurut Anda makan siang Anda selama ini tidak sebesar jumlah tersebut. Oleh karena itu Anda akan...
- A. Tetap makan dengan jumlah tersebut demi mendapatkan uang reimburse
 - B. Makan dengan jumlah yang secukupnya menurut Anda
 - C. Makan secukupnya tapi memalsukan kwitansinya
 - D. Makan secukupnya dengan kwitansi yang sebenarnya
 - E. Ikut bagaimana rekan saya yang lain saja
86. Tugas Anda harus diselesaikan dalam satu minggu. Maka Anda akan...
- A. Menyelesaikan tugas yang lainnya dulu lebih yang lebih dekat batas waktunya

- B. Menumpuk tugas tersebut pada daftar tugas Anda
C. Membiarkan tugas tersebut hingga Anda tergerak untuk menyelesaikannya
D. Menyelesaikan tugas tersebut manakala sudah ditagih oleh atasan Anda
E. Menyelesaikan tugas jika ada yang membantu Anda
87. Suatu hari Anda sedang rapat bersama para pimpinan, salah seorang pimpinan mengeluarkan pendapatnya. Namun Anda tidak setuju dengan pendapat tersebut, maka Anda akan...
- A. Langsung mengeluarkan pendapat Anda juga walau ia pimpinan
B. Menutup mulut karena tidak mau membantah pimpinan
C. Mengiyakan saja untuk menyetujui pendapat pimpinan tersebut
D. Meninggalkan ruangan rapat karena Anda geram dengan pimpinan Anda
E. Biasa saja karena hal tersebut sudah sering terjadi
88. Menurut rekan-rekan saya, saya ini orang yang...
- A. Tidak memiliki ketekunan dalam mengerjakan pekerjaan rutin
B. Memiliki ketekunan rendah
C. Terkadang tekun
D. Terkadang mudah jengkel dan kurang tekun mengerjakan sesuatu
E. Cukup tekun
89. Setelah menyelesaikan pekerjaan tertentu, saya...
- A. Langsung melakukan aktifitas lain
B. Istirahat sejenak
C. Mengakses situs jejaring sosial semacam facebook untuk mengetahui kabar terbaru dari kerabat dan kawan saya
D. Membaca Koran
E. Meneliti pekerjaan tersebut apakah masih ada kekeliruan, lalu melakukan aktifitas lain
90. Jika mengalami kegagalan dalam rangka mencoba sesuatu maka saya..
- A. Mencari bantuan untuk jalan keluar
B. Menganggap kegagalan sebagai resiko sekaligus latihan
C. Akan berusaha terus untuk mencoba lagi sampai berhasil
D. Kecewa tetapi masih ada semangat untuk mencoba
E. Merasa kehilangan semangat untuk memulai
91. Ketika saya diminta melakukan pekerjaan berat, saya..
- A. Mendak diberikan pekerjaan seperti itu
B. Mempertimbangkan dulu untuk menerimanya
C. Tetap menerimanya, meskipun tidak suka dengan pekerjaan itu
D. Merasa tertantang melakukan pekerjaan itu
E. Menyerahkan pekerjaan tersebut kepada orang lain
92. Jika Anda diminta untuk menggambar pemandangan, maka yang terlintas pertama kali dalam pikiran Anda untuk digambar ialah...
- A. Gunung
B. Sawah
C. Lautan
D. Pantai

E. Kardus

93. PNS yang kreatif itu adalah PNS yang...

- A. Bisa membagi waktunya
- B. Cepat kerjanya
- C. Bisa membunuh rutinitasnya
- D. Menikmati pekerjaannya
- E. Aneh

94. Pasangan saya tidak menyukai tempat dimana saya bekerja, sikap saya...

- A. Menanyakan alasan pasangan saya mengatakan hal tersebut
- B. Menjelaskan bahwa saya juga mencintai pekerjaan saya
- C. Mempertimbangkan untuk berhenti dari pekerjaan saya
- D. Tetap memilih pekerjaan saya dengan resiko memutus hubungan dengan pasangan saya
- E. Membawa pasangan saya ketempat saya bekerja dan membiarkan dirinya menilai

95. Saya sedang tidak dalam kondisi fit untuk bekerja, sikap saya...

- A. Izin kepada atasan saya untuk pulang dan beristirahat
- B. Beristirahat sejenak dengan harapan dapat lebih sehat nantinya
- C. Melimpahkan pekerjaan kepada teman lalu izin kepada atasan untuk pulang
- D. Tetap bekerja semampu saya
- E. Menyuruh teman saya untuk mengerjakan pekerjaan saya

96. Teman saya menanyakan proses pekerjaan saya, sikap saya...

- A. Tidak membahasnya, karena pekerjaan saya biarlah hanya saya dan atasan yang tahu
- B. Mengatakan bahwa semua berjalan dengan baik
- C. Mengatakan apa adanya dan meminta saran kepada teman anda bila diperlukan
- D. Mengatakan bahwa anda dapat menyelesaikannya sendiri
- E. Tidak membahasnya dan mengalihkan topik agar teman saya tidak sakit hati

97. Saya mempunyai seorang saudara yang ingin sekali bekerja ditempat saya bekerja, yang saya lakukan...

- A. Memberinya alamat rumah HRD kantor saya
- B. Memberitahukan pihak HRD bahwa saudara saya akan mendaftar lowongan pekerjaan
- C. Memberikan trik dan celah untuk bisa mendapatkan lowongan tersebut
- D. Menyemangatnya namun tak membantu apapun
- E. Tidak mempedulikannya

98. Tim bola voli unit kami diperkirakan akan kalah melawat tim bola voli unit lain dalam instansi kami. Sikap saya dalam pertandingan...

- A. Lebih baik diam karena sadar akan kekuatan tim kami
- B. Berusaha bersembunyi agar tidak diketahui bahwa saya adalah pendukung tim lemah
- C. Tetap memberikan dukungan dengan penuh semangat
- D. Jika tim kami kalah tidaklah mengapa, karena sudah diprediksikan demikian
- E. Memberikan dukungan daripada saya dicap tidak setia kawan

99. Bagi saya, kegagalan adalah

- A. Isyarat tegas bahwa kita harus berhenti

- B. Justru meningkatkan ketangguhan saya untuk mencoba lagi dengan lebih baik
- C. Sering menjatuhkan mental saya
- D. Saya upayakan untuk tidak mengurangi semangat saya
- E. Mungkin ada unsure kekeliruan dari anggota tim saya

100. Menurut saya, para pemimpin besar dunia itu...

- A. Mereka memang sudah Tuhan takdirkan menjadi pemimpin besar
- B. Mereka berusaha keras dalam hidupnya untuk sukses
- C. Mereka mengusahakan kesempatan dan fasilitas sehingga bisa sukses
- D. Mereka adalah pribadi yang langka
- E. Mereka sangat beruntung bisa sukses dan menjadi pemimpin besar

UNTIL HANYA SOAL LATIHAN

PEMBAHASAN SOAL LATIHAN TWK DAN TIU

1. Fundamentalisme adalah paham yang menetapkan agama sebagai hukum politik dalam dunia modern. (B)
2. Dimensi dinamis merupakan Kemampuan ideologi dalam mempengaruhi dan sekaligus menyesuaikan diri dengan pertumbuhan atau perkembangan masyarakatnya. (E)
3. Nilai praksis adalah perlunya penafsiran ulang sesuai keadaan bangsa dan perkembangan zaman. (C)
4. Menghormati pemeluk agama lain saat beribadah merupakan perilaku cerminan sila pertama. (C)
5. Piagam Jakarta (Jakarta Charter) ditandatangani sekaligus disahkan oleh Panitia Sembilan pada tanggal 22 Juni 1945. Piagam Jakarta ini awalnya akan dijadikan teks kemerdekaan, tetapi kemudian dijadikan sebagai pembukaan UUD 1945. (C)
6. Pancasila sebagai dasar filsafat negara. Lihat pada pembukaan UUD 1945, alenia 4. (B)
7. Tunjangan pejabat negara tidak tercantum dalam UUD 1945. (C)
8. Karena negara Indonesia tidak menganut sistem pemerintahan parlementer sejak awal dibentuknya UUD 1945 sampai saat ini. (C)
9. Tujuan konstitusi: sebagai hukum dari segala sumber hukum, membatasi kekuasaan penguasa agar tidak sewenang-wenang, melindungi HAM, dan sebagai pedoman penyelenggaraan negara. (E)
10. Asas Kepastian Hukum adalah Asas yang mengutamakan landasan peraturan perundang-undangan, kepatuhan, dan keadilan dalam setiap kebijakan penyelenggaraan negara dalam negara hukum. (D)
11. Penaklukan/ *occupatie* merupakan terbentuknya negara pada daerah atau wilayah kosong yang dikuasai. Hal ini terjadi pada Liberia yang diambil alih oleh para bekas budak negro orang Amerika yang selanjutnya Liberia dimerdekakan pada tahun 1847. (D)
12. Supomo bukan merupakan anggota panitia sembilan. (D)
13. Batas Laut Teritorial → batas laut yang ditarik dari sebuah garis dasar dengan jarak 12 mil ke arah laut. (C)
14. Dinamika → sifat tidak tetap dan harus mengalami perubahan. (D)
15. Pasal 29 ayat 2 → keanekaragaman agama di Indonesia. (B)
16. Muh. Yamin adalah orang yang pertama mengusulkan kepa buny Karno Bhinneka Tunggal ika dijadikan semboyan Bangsa. (C)
17. Pasal 18, 18A, dan 18B membahas tentang adanya wewenang pemerintah daerah terkait otonomi daerah. (C)
18. Sistem pemerintahan presidensial disebut juga sebagai *fixed executive* karena masa jabatan para menteri tidak ditentukan oleh kepercayaan parlemen. (A)
19. Kekuasaan eksekutif (pelaksana undang-undang) → Presiden. (A)
20. Gubernur, Bupati dan Wali Kota masing-masing sebagai Kepala Pemerintah Daerah Provinsi, Daerah Kabupaten dan Daerah Kota dipilih secara demokratis. Pemerintah daerah menjalankan otonomi seluas-luasnya, kecuali urusan pemerintahan yang oleh undang-undang ditentukan sebagai urusan Pemerintah Pusat. (A)
21. UU No. 25 tahun 1999 tentang perimbangan antara keuangan pusat dan daerah. Otonomi daerah adalah hak, wewenang, dan kewajiban daerah otonom untuk mengatur dan mengurus sendiri urusan pemerintahan dan kepentingan masyarakat setempat sesuai dengan peraturan perundang-undangan dan diatur oleh UU No. 32 tahun 2004. (E)
22. Sumber hukum konvensi adalah sumber hukum yang berasal dari keyakinan kesadaran individu dan pendapat umum. (E)

23. UU No. 31 Tahun 1999 jo UU No. 20 Tahun 2001 → Upaya pemerintah dalam pemberantasan tindakan pidana korupsi. (B)
24. Berdasarkan paham yang dianut, demokrasi → Demokrasi Liberal, komunis, dan gabungan. (B)

25. Isi Magna Carta sebagai berikut:

- Raja beserta keturunannya berjanji akan menghormati kemerdekaan, hak, dan kebebasan Gereja Inggris.
- Raja berjanji kepada penduduk kerajaan yang bebas untuk memberikan hak-hak.
- Para petugas keamanan dan pemungut pajak akan menghormati hak-hak penduduk.
- Polisi ataupun jaksa tidak dapat menuntut seseorang tanpa bukti dan saksi yang sah.
- Seseorang yang bukan budak tidak akan ditahan, ditangkap, dinyatakan bersalah tanpa perlindungan negara dan tanpa alasan hukum sebagai dasar tindakannya.
- Apabila seseorang tanpa perlindungan hukum sudah terlanjur ditahan, raja berjanji akan mengoreksi kesalahannya.
- Kekuasaan raja harus dibatasi.
- Hak Asasi Manusia (HAM) lebih penting daripada kedaulatan, hukum atau kekuasaan.

Magna Carta dianggap sebagai lambang perjuangan hak-hak asasi manusia, dan dianggap sebagai *tonggak perjuangan lahirnya hak asasi manusia*. (E)

26. (E)
27. Raden Wijaya adalah Raja Kerajaan Majapahit. (D)
28. Raja Samudra Pasai Sultan Malik as-Saleh, Sultan Muhammad, dan Malik Az Zahir. (A)
29. Perjanjian Postdam adalah perjanjian setelah Perang Dunia II. (E)
30. UNCI → Badan perdamaian ini dibentuk pada tanggal 28 Januari 1949 untuk menggantikan Komisi Tiga (A)
31. Syarat-syarat konvensi adalah Diakui dan dipergunakan berulang – ulang dalam praktik penyelenggaraan negara, Tidak bertentangan dengan UUD 1945, Memperhatikan pelaksanaan UUD 1945 (E)
32. Kalimat inti = S + P + (O)
Di Yayasan Galuh / jumlah pasien remaja
K S
/ justru mendominasi / mulai ...
P K (A)
33. Analogi yaitu membandingkan dua sifat paragraf tersebut, antara otak manusia dan pisau. (B)
34. Penulisan nama dan jabatan yang tepat terdapat pada kalimat “Seminggu yang lalu Kolonel Haryono meninggal dunia”. Nama orang harus menggunakan huruf besar. (C)
35. Kata signifikan bermakna penting. Berarti kata signifikan jika dipakai dalam kalimat “... tidak akan berpengaruh yang signifikan terhadap nilai tukar rupiah.” Dapat diganti dengan kata yang mendekati, yaitu besar. (C)
36. Ceruk = liang (lubang, lekuk) yang masuk ke dinding (tembok, tanah, dsb); gua (di gunung); ruang berpetak-petak (dalam lemari); sudut (pojok, pelosok), di dapur (kamar, rumah, dsb); rongga (di sela-sela timbunan barang, dsb). (D)
37. Klarifikasi = berasal dari kata asing yang memiliki arti menjelaskan; menjernihkan; membeningkan terhadap sesuatu yang belum tentu kebenarannya. (D)

38. Dependensi = berasal dari kata asing ketergantungan; keadaan tergantung pada orang lain; belum dapat hidup mandiri; keadaan dijajah; keadaan tidak merdeka; di bawah kekuasaan atau pengaruh negara lain. (D)
39. Kasar = (1) tidak rata (permukaan), tidak halus; (2) kasap, kesat; (3) tidak baik buatannya, gabas; (4) tidak lemah lembut (tentang tingkah laku); (5) dapat diraba (dilihat dari). Jadi, lawannya adalah halus. (A)
40. Reaksi = (1) daya tarik; (2) tenaga tarik, jadi lawannya adalah daya tolak. (D)
41. Gentar = ragu-ragu atau takut, jadi lawannya adalah berani. (C)
42. Bait bagian dari puisi, loteng bagian dari bangunan. (B)
43. Setelah mencuri kita menyesal, setelah menanam kita menyang. (B)
44. Intensitas dan frekuensi hampir sama, demikian juga penghargaan dan penghormatan. (D)
45. Bawang dihitung dengan siung, demikian juga telur dihitung dengan butir. (C)

46. Penjualan tiket kelas I
 $= 12.000P / (12.000P + 9.000B + 25.000R)$
 $= 12 P / (12P + 9B + 25R)$ (C)

47. Jumlah karyawan tahun lalu
 $= (29 - 3) + (2 \times 3) = 32$ orang
 Jumlah karyawan tahun ini adalah 3 kali jumlah karyawan tahun lalu
 $= 3 \times 32 = 96$ orang. (A)

48. Jumlah pegawai yang mungkin adalah yang bisa dibagi dengan jumlah perbandingan (8 + 7 = 15). (C)

49. A : 7x : 5x
 B : A = 3y : 4y
 $A - C = 16$ buah $\rightarrow 2x = 16$ buah, $x = 8$ buah.
 $A = 7x = (7 \times 8)$ buah = 56 buah.
 $A = 4y \rightarrow y = 56/4 = 14$ buah
 $B = 3y = (3 \times 14)$ buah = 42 buah (B)

50. x : y
 $4.48 : \pi (28)^2$
 $192 < 2464$
 Jadi $x < y$ (B)

51. Segitiga mempunyai sudut $90^\circ, 45^\circ, 45^\circ$
 Maka: alas = tinggi. (C)

52. $\frac{(x+y+30)}{3} = 10$
 $x + y = 0$
 $\frac{(x+y)}{2} = \frac{0}{2} = 0$ (A)

53. Misalkan: jika koefisien n diganti 1, maka $x = 5, y = 5,67$, sehingga $x < y$. (C)

54. $X + Y + Z = 249$

$$\frac{X + Y}{Z} = \frac{159}{90} \quad (\text{A})$$

55. Jarak Yogyakarta – Klaten (S)
 $= 6 \times 700.000$
 $= 4.200.000$
 $= 42 \text{ km}$
 Kecepatan Niko (v) = 36 km/jam
 Waktu tempuh Niko (t) = S : V
 $= 42 : 36 = 1\frac{1}{6} \text{ jam}$ atau 1 jam 10 menit
 Tiba = pukul 07.10 (B)

56. Diketahui:
 $n(s) = 48$ $n(k \text{ n o}) = 10$
 $n(k) = 20$ $n(k \text{ n p}) = 5$
 $n(o) = 25$ $n(o \text{ n p}) = 6$
 $n(p) = 12$ $n(k \text{ n o n p}) = 4$
 $x = \text{jumlah anak ikut ekstrakurikuler?}$

Solusi

$$\begin{aligned} X &= n(k) + n(o) + n(p) - n(k \text{ n o}) - n(k \text{ n p}) - n(o \text{ n p}) + n(k \text{ n o n p}) \\ &= 20 + 25 + 12 - 10 - 5 - 6 + 4 \\ &= 40 \quad (\text{D}) \end{aligned}$$

57. Nilai rata-rata =
 $[(7,2 \times 35) + (7,5 \times 40) + (8 \times 45)] : [35 + 40 + 45] \rightarrow [252 + 300 + 360] : 120 = 912 : 120 = 7,6$ (C)

- 58.
-

Angka yang dicetak tebal ditambah 10 dan yang tidak dicetak tebal ditambah 6, maka:
 $10 + 25 = 35$ dan $21 + 6 = 27$. (B)

59. 243 81 27 9 3 1 1/3
-

Tiap suku dibagi 3 untuk mendapatkan angka berikutnya, sehingga jawabannya adalah 1 : 3 = 1/3. (B)

60. Kesenian → Beladiri/ Renang.
 Beladiri/ Renang → melukis.
 Karena Inda bukan peserta melukis, maka Inda bukan peserta Beladiri, renang, maupun kesenian. (A)

61. Seseorang disebut anggota yang memiliki anak lebih dari tiga orang ada 2, yaitu menerima piagam dan hadiah. Jika hanya menerima salah satu saja, maka dia bukanlah anggota yang memiliki anak lebih dari tiga orang. (A)

Catatan:

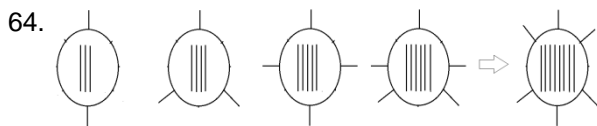
Predikat dari premis ini adalah jumlah anaknya, bukan anggota. Jadi, Dedo tetap merupakan anggota, tetapi jumlah anaknya kurang dari tiga orang.

62. Sebagian sopir bus tidak pernah mengantuk saat mengemudi, artinya sebagian sopir bus yang lain pernah mengantuk saat mengemudikan kendaraannya. (D)



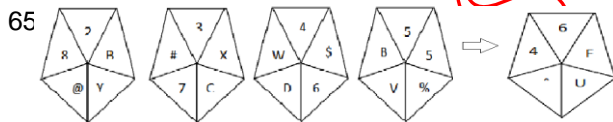
Bola hitam berputar ke kanan dan maju dengan langkah genap (2, 4, 6).

Bola putih berputar ke kanan dan maju dengan langkah 1, 2, 3, 4, dst. (C)



Gambar garis di dalam dan di luar longkang bertambah satu setiap polanya.

(A)



Bagian atas segilima diisi urutan angka berurut (1, 2, 3, ...). Huruf "A, B, C, ..." bergerak searah jarum jam dan akan melangkah dua bagian bila melewati bagian atas segilima. Huruf "Z, V, X, ..." bergerak berlawanan dengan jarum jam dan akan melangkah dua bagian bila melewati bagian atas segilima. Angka "9, 8, 7, ..." (dihitung mundur) bergerak berlawanan dengan arah jarum jam dan akan melompati dua bagian bila melewati bagian atas segilima. (D)

PEMBAHASAN SOAL TES TKP (KARAKTERSITIK KEPRIBADIAN)

Poin					
No	5	4	3	2	1
66	B	E	A	D	C
67	B	A	C	D	E
68	D	E	B	C	A
69	B	A	E	C	D
70	E	C	D	B	A
71	A	D	C	E	B
72	B	C	D	E	A
73	E	A	C	B	D
74	B	C	E	A	D
75	C	B	A	D	E
76	D	A	B	E	C
77	E	D	C	B	A
78	C	B	D	A	E
79	A	B	E	D	C
80	E	A	B	C	D
81	A	E	B	C	D
82	B	D	E	C	A
83	D	A	C	B	E
84	B	E	C	D	A
85	D	B	A	E	C
86	A	B	E	D	C
87	A	E	C	B	D
88	E	D	C	B	A
89	E	A	B	C	D

90	C	B	A	D	E
91	D	C	B	E	A
92	E	A	B	C	D
93	D	A	B	C	E
94	B	E	A	D	C
95	A	B	E	D	C
96	B	D	A	E	C
97	C	B	D	E	A
98	D	C	B	A	E
99	C	D	A	E	B
100	B	D	E	C	A