

Psikotes Angka - Tes Angka berkolom merupakan bagian dari matematika psikotes yang berupa kolom berisi angka-angka. Tujuan dari tes ini untuk mengetahui daya tahan seseorang dalam menyelesaikan persoalan. Tes Angka berkolom meliputi penjumlahan, pengurangan, pola deret, penjumlahan sebagian, dan operasi hitung lainnya.

Contoh soal : Isilah titik dengan angka pada kolom yang kosong

17	20	15	18	13
22	25	20	23	18
19	22	17	20	15
...	29	24	27	22
23	26	21	24	19

Contoh Soal : Psikotes Angka Kolom

Pembahasan pada kolom membentuk pola +3, -5 secara mendatar. jadi, kolom yang kosong adalah 26

Isilah X dengan Mengikuti Pola di Atasnya!

3	4	7
4	5	9
2	4	X

Contoh Soal : Psikotes Angka Berkolom 2

Pembahasan :

$$3+4 = 7$$

$$4 + 5 = 9$$

Jadi, X adalah $2+4 = 6$

Paket Psikotes Lengkap Dapat Anda Dapatkan Melalui Ebook Psikotes

Psikotes Deret Angka

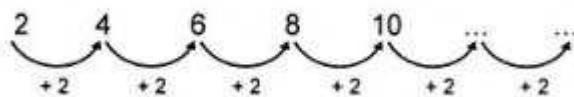
Tes ini merupakan kumpulan deret angka, dimana tujuan tes ini adalah mengukur kemampuan analisa kandidat/ peserta tes dalam memahami pola-pola maupun kecenderungan tertentu kedalam wujud deret angka dan memprediksikan hal-hal lain berdasarkan pola jawaban tersebut. Psikotes ini disebut juga tes angka atau huruf. Tes ini bertujuan untuk keselarasan berpikir seseorang. Biasanya terdiri dari operasi penjumlahan, penurangan, perkalian, pembagian, kuadrat dan kombinasi dari operasi-operasi tersebut.

Contoh Penjumlahan

Tentukan dua suku berikutnya dari deret berikut

2 4 6 8 10

Pembahasan :



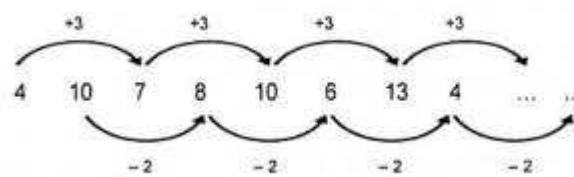
Deret di atas mempunyai pola +2 dan suku berikutnya diperoleh dari angka sebelumnya +2. Jadi, dua suku berikutnya adalah $10+2=12$ dan $12+2=14$

Kombinasi :

Tentukan dua suku berikutnya dari deret berikut

4 10 7 8 10 6 13 4

Pembahasan :



Terdapat dua suku pola deret atas, yaitu :

- Suku ganjil : 4,7,10,13,...
- Suku ganjil mempunyai pola +3, suku berikutnya dari angka sebelumnya +3
- Suku genap : 10,8,6,4
- Suku ganjil mempunyai pola -2, suku berikutnya dari angka sebelumnya -2
- Jadi dua suku berikutnya pada deret di atas ialah $13+3=16$ dan $4-2=2$

Paket Psikotes Lengkap Dapat Anda Dapatkan Melalui Ebook Psikotes

Psikotes Angka Hilang

Sesuai dengan namanya, berarti yang akan dicari adalah angka yang tak tampak di antara deretan baris angka-angka yang lain. Sehingga, ada kemungkinan sepuluh angka yang harus dipahami di setiap barisnya.

Contoh soal:

3	4	1	7	5
a	b	c	d	e

1	3	4	1	7	e
2	5	1	4	3	d
3	4	3	7	5	c
4	1	3	5	7	b
5	4	7	3	1	e
6	7	5	1	3	b
7	5	1	7	4	a
8	3	7	5	1	b

- Huruf Hilang

Waktu: 20 – 30 menit (10 Kolom)

Sesuai dengan namanya, berarti yang akan dicari adalah huruf yang tak tampak di antara deretan baris huruf yang lain. Huruf hilang memiliki dua jenis model, yaitu huruf kecil semua atau huruf kapital semua. Huruf hilang sangat berbeda dengan angka hilang karena Anda harus mampu memahami huruf-huruf sebanyak 26 huruf (a/A – z/Z).

Contoh soal Psikotes Aritmatika

1. $(55+30)2$

a. 7175

b. 7125

c. 7225

d. 9025

e. 8025

Jawaban C

2. 28 adalah berapa persen dari 70

a. 50

Paket Psikotes Lengkap Dapat Anda Dapatkan Melalui Ebook Psikotes

- b. 40
- C. 30
- d. 25
- e. 20

Jawaban B

3. $\sqrt{94 \times 1681} =$

- a. 2581
- b. 49
- c. 23

Jawaban C

4. suatu seri : 100-4-90-7-80

- a. 8
- b. 9
- c. 10
- d. 11
- e. 12

Jawaban C

5. 5-7-10-12-15 seri selanjutnya

- a. 13
- b. 14
- c. 15
- d. 16
- e. 17

Jawaban E

6. suatu seri : 2-4-2-4-6-4-6-8-6-8-10-8-seri selanjutnya

- a. 6
- b. 7
- c. 8
- d. 9
- e. 10
- f. 11

Jawaban D

7. jika $x = 1/16$ dan $y = 16\%$ maka:

- a. $x > y$
- b. $x < y$
- c. $x = y$
- d. x dan y tak dapat ditentukan
- e. $x^2 > y$

Jawaban B

8. 14 berbanding 35 adalah

- a. 1 berbanding 3
- b. 3 berbanding 20
- c. 5 berbanding 12
- d. 3 berbanding 4
- e. 5 berbanding 4

Jawaban C

9. $2x=64$ $3y=81$ maka

- a. $X > y$
- b. $X < y$
- c. $X = y$
- d. X dan y tak bisa ditentukan
- e. $Xy < y$

Jawaban A

Psikotes Kraepelin dan Pauli

- Disaat mengerjakan soal disarankan jangan sekalipun menggunakan pensil mekanis dalam tes ini melainkan pensil biasa atau pulpen saja, mengingat tes ini sangat terikat dengan durasi waktu yang terbatas. Pada prakteknya pensil mekanis memiliki kekurangan yakni perlu di-reload jika ujung granitnya habis, setidaknya menyita waktu sekitar 0.5-1 detik dan bilasaja anda melakukan reload dalam 10 lajur berarti anda telah kehilangan waktu 5-10 detik.

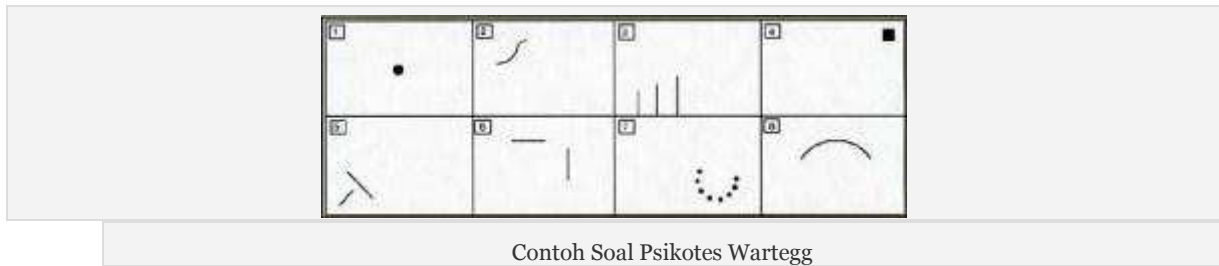
- Usahakan pada saat menjumlahkan harus benar dan stabil pada masing-masing kolom, kendalikan diri untuk menghemat tenaga dan waktu sambil mendengarkan setiap perintah panitia. Tidak dibenarkan menggunakan pensil mekanis karena mudah patah dan membuang waktu, fokus dan konsentrasi dalam menyelesaikan soal dan jangan memikirkan hal lain selain soal yang ada dihadapan anda.
- Kita akan diminta untuk menjumlahkan angka di baris pertama dengan baris berikutnya, dan tulis digit terakhirnya saja diantara dua baris tersebut dengan posisi agak menjorok kedalam atau sebelah kanan, misalnya untuk angka 4 dan 3 hasilnya , sedangkan untuk angka 5 dan 6 hasilnya 1 bukan 11 (ingat cuma digit terakhir saja yang kita tulis). Contohnya seperti soal di bawah ini:

1. tulis satuan saja
 2. abadikan garis

- Tetap menjaga konsentrasi dalam mengerjakan test ini, jangan memikirkan hal lain yang justru anda menjadi tidak fokus sehingga dapat melambatkan pengisian angka dalam test.
- Setiap sekian detik sekali pengawas ujian memerintahkan perintah "Garis/pindah!" artinya kita harus membuat sebuah garis datar sebagai tanda kita sudah mengerjakan sejauh tanda garis tersebut. Setelah membuat garis lanjutkan hitungan seperti biasa dan kerjakan hingga pengawas memerintahkan untuk berhenti.

Psikotes Wartegg

Berikut ini contoh soal dari Psikotes wartegg, perhatikan gambar di bawah ini;



Sekarang mari kita urai satu persatu dari kedelapan bagian objek psikotes wartegg tersebut:

- Objek gambar psikotes wartegg dengan objek sebuah “titik” yang berada di tengah-tengah kotak. Objek gambar dengan bentuk ini bertujuan untuk menggali hal-hal yang berhubungan dengan penyesuaian diri, yakni bagaimana seseorang mampu menempatkan diri dalam lingkungannya. Untuk meneruskan gambar objek 'titik' ini Anda bisa menggambar dengan benda hidup atau benda mati, contohnya menggambar sebuah Jam dinding dimana titik tersebut sebagai pusat jarum jam atau disarankan menggambar makhluk hidup lain yang disukai Anda.
- Objek gambar psikotes wartegg dengan objek ” ~ ” yaitu berupa garis kecil melengkung bergelombang yang mengisyaratkan sebuah objek hidup, bergerak bebas dan dinamis. Sebaiknya gambarlah sebuah makhluk hidup yang mencerminkan makhluk yang dinamis dan mampu berkembang, hal tersebut menunjukkan bahwa kita mampu tumbuh dan berkembang bukan menggambarkan pribadi yang statis atau pasif. Contohnya menggambar seekor burung, atau makhluk hidup lain yang disukai Anda.
- Objek gambar psikotes wartegg dengan bentuk 3 buah garis vertikal yang menaik secara signifikan (semakin meninggi). Hal ini dapat memberi kesan kaku dan keras namun teratur dan bertahap ingin maju. Sementara itu bentuk objek tes ini memiliki makna untuk mengukur seberapa besar ambisi kita dalam meraih kesuksesan. Pada bagian ini sebaiknya meneruskan dengan menggambar benda mati. Contohnya bisa dengan sebuah tangga (tahapan) dan di atas tangga terdapat seseorang sedang menapaki tahapan tangga tersebut atau disarankan menggambarkan objek yang Anda sukai dengan filosofi gambar yang hampir sama.
- Objek gambar psikotes wartegg berbentuk segi empat berukuran kecil, berwarna hitam yang bisa memberi kesan tidak menarik/ statis, tertekan atau depresif. Objek ini untuk mengukur kemampuan kita dalam mengatasi kesulitan. Contoh menggambar gedung-gedung bertingkat dimana kotak

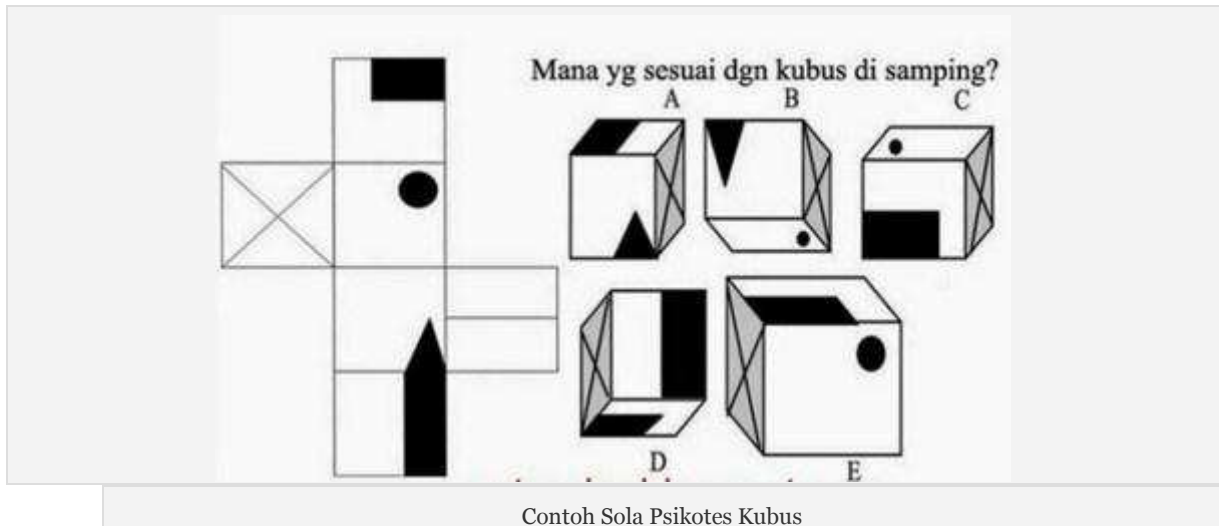
hitam tersebut sebagai jendelanya, atau disarankan menggambar objek lain yang disukai Anda.

- Objek gambar psikotes wartegg dslm bentuk garis diagonal yang saling berhadapan. Objek/ simbol ini dapat memebrikan kesan teknis dan konstruktif yang mengisyaratkan kedalam sebuah gagasan yang kuat tentang konflik juga dinamika. Pola objek ini untuk mengukur bagaimana cara kita bertindak dan sebaiknya menggambar yang sedang menunjukkan bahwa kita senang berkompetisi untuk memotivasi diri Anda bergerak lebih cepat. Contohnya menggambar mobil balap formula/ Gokart, atau disarankan menggambar objek lain yang disukai Anda.
- Objek gambar psikotes wartegg dalam bentuk garis horizontal serta vertikal. Objek dua garis yang bisa kita bentuk segi empat ini menunjukkan kesederhanaan tapi tetap menyuguhkan realitas. Contohnya menggambar sebuah kamera, televisi atau laptop, atau disarankan menggambar objek lain yang disukai Anda.
- Objek gambar psikotes wartegg dalam bentuk titik-titik yang membentuk sebuah lingkaran. Bentuk objek gambar ini menggambarkan kehati-hatian. Contohnya menggambar rambu lampu lalu lintas, atau menggambar objek lain yang disukai Anda dan sesuai dengan filosofi gambarnya.
- Objek gambar psikotes wartegg dalam bentuk garis melengkung yang menunjukkan kebesaran, kebijaksanaan. Sebaiknya gambarlah makhluk hidup yang besar dan menunjukkan kewibawaan. Contohnya seekor gajah, maupun wanita yang berkerudung atau gambar lainnya yang disukai Anda.

Psikotes Kubus

Contoh soal :

Silakan perhatikan gambar dibawah ini terdapat lima buah kubus a,b,c,d, dan e dimasing-masing sisi kubus terdapat beberapa tanda seperti tanda segitiga, kotak hitam kecil, silang dan dua bulatan hitam, hanya tiga tanda pada sisi kubus yang terlihat. Secara keseluruhan Kubus a,b,c,d, hingga kubus e tampak berbeda satu sama lain, namun ada tanda yang sama pada sisinya walau dengan susunan yang berbeda.

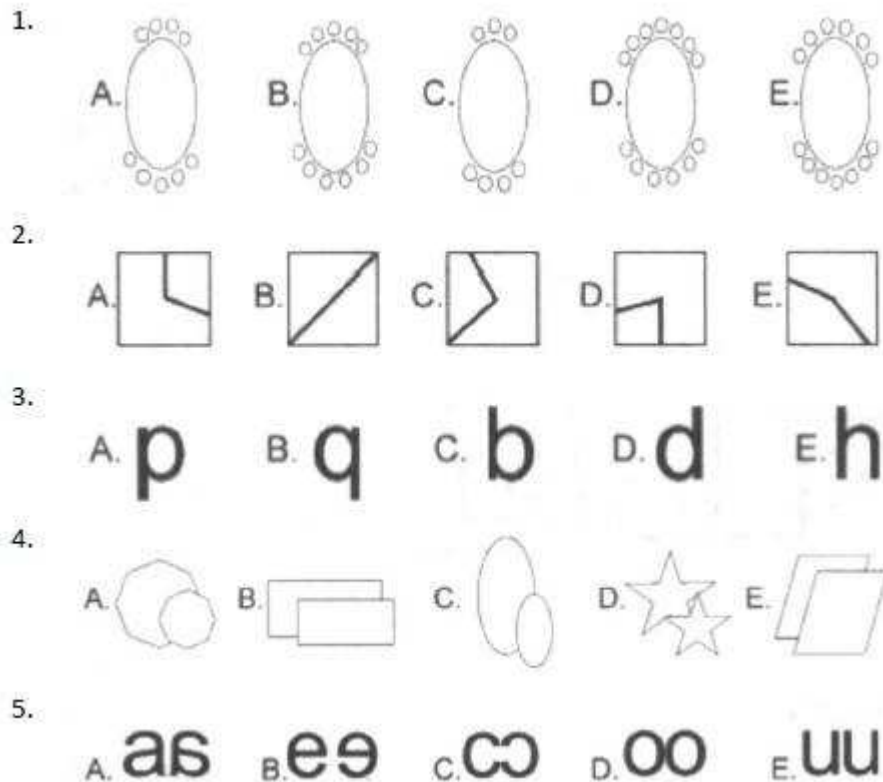


Cara Menjawabnya :

Dari objek di atas terdapat 5 buah kubus yang tiap sisinya punya simbol berbeda. Tugas Anda ialah menentukan kubus disetiap nomor yaitu kubus yang mana dari 5 pilihan jawaban yang tersedia, apakah kubus A, kubus B, kubus C, kubus D atau kubus E. Tentunya kubus di setiap nomor soal sudah mengalami perputaran sedemikian rupa sehingga posisinya beda dengan kubus di pilihan jawaban. Kuncinya, Anda harus membayangkan/ berimajinasi dahulu kubus-kubus itu berputar dan berguling dalam benaknya, sebelum bisa menentukan jawaban yang benar.

Psikotes Spasial

Di bawah ini adalah 5 contoh Psikotes Spasial yang bisa anda pelajari, Perhatikan soal dan gambar berikut!



1. Jawaban D. Hanya pada jawaban D saja terdapat jumlah lingkaran di bagian atas lebih banyak daripada lingkaran di bawahnya.
2. Jawaban B. Garis tersebut tidak mem-bentuk sudut seperti pada pilihan jawaban yang lainnya.
3. Jawaban E. Semua huruf terbentuk dari garis lengkung yang tertutupi dengan garis kecuali pilihan E.
4. Jawaban E. Semua pilihan jawaban terdiri dari dua bidang yang berbeda ukuran (besar dan kecil), kecuali E.
5. Jawaban E. Semua pilihan jawaban terdiri dari dua huruf yang dicerminkan, kecuali pada E.

Psikotes Logika Aritmatika.

Tes ini biasanya terdiri atas deret angka, yang diukur ialah kemampuan analisa dalam memahami berbagai pola atau kecenderungan tertentu (dalam wujud deret angka) serta kemudian memprediksikan hal-hal lain berdasarkan pola tersebut.

Tips Menjawabnya :

- Jangan terpaku pada deret hitung maupun deret ukur perhitungan matematika saja dan jangan terpaku pada 3-4 angka terdepan dalam deret, tapi adakalanya anda melihat deret secara keseluruhan karena pola bisa berupa urutan, pengelompokan berurutan maupun pengelompokan loncat.
- Ingat keterbatasan waktu. Jangan terlalu asyik dan terpaku hanya pada sebuah soal yang penasaran ingin anda pecahkan, lompati ke soal berikutnya karena terkadang soal di bawahnya lebih mudah dipecahkan dibandingkan soal sebelumnya.

Sialakan latih kemampuan anda untuk materi deret hitung/deret ukur.

Contoh:

1. suatu seri : 2-5-7-3-6-8-4-..-.. seri selanjutnya

- a. 5-6
- b. 6-7
- c. 7-8
- d. 6-8
- e. 7-9

2. suatu seri : 3-5-8-12- seri selanjtnya

- a. 15
- b. 16
- c. 17
- d. 18
- e. 19

Jawaban : 4. E dan 5. C

Psikotes Logika Penalaran. Tujuan Tes Psikotes digunakan untuk mengukur berbagai kemungkinan atas bermacam kemampuan secara mental dan apa-apa yang mendukungnya, termasuk prestasi dan kemampuan, kepribadian, intelegensi, atau bahkan fungsi neurologis, dan juga tes psikotes digunakan untuk mengukur berbagai kemungkinan atas bermacam kemampuan orang secara mental dan faktor-faktor yang mendukungnya, termasuk prestasi dan kemampuan, kepribadian, dan intelegensi

Contoh : Semua anggota asosiasi profesi harus hadir dalam rapat. Sementara dokter adalah anggota asosiasi.

Paket Psikotes Lengkap Dapat Anda Dapatkan Melalui Ebook Psikotes

- a. Semua yang hadir dalam rapat adalah dokter
- b. Semua anggota rapat bukan anggota asosiasi profesi
- c. Sementara peserta rapat adalah dokter
- d. Semua dokter hadir dalam rapat
- e. Semua yang hadir bukan dokter

Jawaban : C

Contohnya

Psikotes Analog Verbal

Tes ini biasanya terdiri atas soal soal yang berisi sinonim; antonim; analog suatu kata, yang diukur dalam tes ini ialah kemampuan logika Anda terhadap sebuah situasi dan kondisi, yang bertujuan guna melihat sejauh mana Anda memahami sebab-akibat suatu permasalahan.

Contoh:

- 1. wanita : kebaya = pria :
sepatu b. baju c. topi d. jas (jawaban d)
- 2. kubus : pyramid = empat persegi :
a. peti b. mesir c. pentagon d. segitiga (jawaban d)

Psikotes EPPS

Sebagaimana kita ketahui bersama bahwa jenis soal psikotes EPPS ini tidak ada jawaban salah atau benar dalam tes ini. Contoh Soal Psikotes EPPS membantu anda akan membaca sejumlah pernyataan-pernyataan dalam pasangan, tentang berbagai hal yang mungkin Anda suka lakukan atau tidak suka lakukan (inginkan atau tidak inginkan). Perhatikan Contoh Soal Psikotes EPPS di bawah ini:

Soal 1 :

- A. Saya suka berbicara tentang diri saya dengan orang lain.
- B. Saya suka bekerja untuk suatu tujuan yang telah saya tentukan bagi diri saya.

Soal 2 :

- A. Saya suka menolong teman-teman saya, bila mereka berada dalam kesulitan.
- B. Saya ingin melakukan pekerjaan apa saja ;eoaik mungkin

Paket Psikotes Lengkap Dapat Anda Dapatkan Melalui Ebook Psikotes

Psikotes Menggambar Manusia, Pohon dan Rumah (HTP)

Psikotes Menggambar Manusia

Psikotes Menggambar Manusia boleh di bilang gampang-gampang susah, bagaimana dengan anda yang tidak pandai menggambar?, ya dalam jenis tes ini penilaian skor bukan bagus atau tidaknya gambar yang di buat melainkan detil atau tidaknya anda menggambar objek tersebut. bagaimana tidak, selain kecermatan anda yang dinilai tetapi juga setiap garis yang anda goreskan menjadi penilaian yang mana di dalamnya mencerminkan karakterisik anda. Tes ini fungsinya mengetahui sejauh mana rasa tanggungjawab serta rasa percaya diri anda serta ketahanan dalam suatu pekerjaan. Sebaiknya soal psikotes menggambar orang ini menurut jenis kelamin Anda. Jika Anda pria maka gambarlah seorang pria, dan sebaliknya. Usahakan menggambar orang dengan ekspresi wajah bahagia atau tersenyum dalam melakukan aktivitas. Profesi gambar orang harus jelas dari kelengkapan pakaian sampai aksesoris yang dikenakan oleh orang tersebut. Misalnya gambar karyawan yang sedang duduk di depan komputer sambil mengetik laporan, dokter yang memeriksa pasiennya, dan lain-lain.



Contoh 1: Menggambar Seorang Engineer

Guna memudahkan anda menggambar, Yups! Mulailah menggambar objek Psikotes Gambar Manusia sesuai sesuai dengan jenis kelamin anda, usahakan gambarlah orang tersebut tepat di tengah kertas agar lebih simetris dan untuk menggambaranya janganlah dalam bentuk kartun atau sketsa melainkan gambarlah manusia secara komplit, dengan memperlihatkan dari mata hidung telinga, jari tangan pokoknya dari ujung rambut sampai ujung kaki. Gaya atau posisi objek silakan tergantung

Paket Psikotes Lengkap Dapat Anda Dapatkan Melalui Ebook Psikotes

selera anda, boleh duduk, berdiri, berbaring, hadap kanan, hadap kiri namun yang disarankan posisi yang mudah ada gambar. Jangan lupa, objek yang sedang gambar bisa mengilustrasikan profesinya apakah seorang karyawan, tentara, polisi, petani, direktur, perawat, dokter, arsitek yakni dengan dilengkapinya pakaian maupun asesoris yang menyertainyai. Misalkan, Seorang Enginner memakai baju khas lapangan, celana panjang, menggunakan sepatu lapangan, pakai helm keselamatan, sambil membawa kertas sebagai ciri khas nya. Kalau bisa gambarlah manusia tersebut dalam keadaan beraktifitas, misalnya sedang memberikan instruksi/ arahan.

Untuk masalah garis gambar, berikut ini penjelasan mengenai makna garis seperti disaat anda memberi tekanan pada garis leher, hal ini menunjukkan bahwa anda memiliki kemauan yang tinggi. Jangan memberikan penekanan berlebihan pada wajah sebab akan menunjukkan bahwa anda orang yang tidak percaya diri. Disamping itu menggambar orang harus dengan ukuran yang wajar atau secukupnya. Dari sisi ukuranpun dapat memberikan makna yaitu gambar orang yang terlalu besar akan menunjukkan bahwa anda termasuk orang dominan, sementara gambar yang terlalu kecil menunjukkan bahwa termasuk orang yang kurang percaya diri. Gambarlah tangan dengan terbuka dan terlihat detail dari jari tangan. Tangan yang tersembunyi di belakang tubuh atau saku celana menunjukkan bahwa Anda orang yang memiliki gangguan hubungan sosial. Sementara tangan yang terbuka menunjukkan bahwa anda adalah orang yang mudah bekerjasama serta fleksibel. Inilah inti penilaian maupun penjelasan yang terkandung dalam Psikotes Gambar Manusia.

Psikotes Menggambar Pohon

Psikotes Menggambar Pohon, tentu anda ingin tahu cara mengerjakannya bukan?,, mudah dan tanpa membuat anda ragu dan bingung sendiri. Tentu mudah saja bilamana anda sudah tahu cara dan prinsip-prinsip yang menjadi acuan penilaiannya. Oke, kali ini kita kupas tentang bagaimana cara maupun langkah latihan anda dalam mengerjakan soal psikotes menggambar pohon dan berikut paparannya;



Contoh 2 : Menggambar Pohon


Pertama, Ingatlah jenis pohon apa yang ada diingatan anda, familiar dan dianggap mudah untuk menggambar. Disarankan ketika anda mengerjakan Psikotes Menggambar Pohon, sebaiknya menggambar pohon ataupun tanaman yang memiliki daun banyak/ rindang, kayu atau ranting, buah, bunga hingga akar. Dalam hal ini anda pun bisa menggambar seperti pohon mangga, durian, jambu dan sebagainya. Menggambar pohon usahakan jangan terlalu tebal atau tipis. Usahakan pula menggambar dengan satu goresan saja. sebab hal ini akan menunjukkan bahwa Anda orang yang tidak ragu-ragu. Posisi atau letak pohon juga harus di tengah-tengah kertas ujian. Gambar juga harus diberi judul yang tepat sesuai dengan apa yang anda gambar.

Kedua, Untuk menggambar pohon dalam Psikotes Menggambar Pohon, gambarlah pohon dengan sempurna artinya bukan mesti bagus melainkan gambarkan semua elemen yang ada pada pohon tersebut. Mulai dari dahan, batang, ranting, daun, akar, serta buah seperti halnya pohon nangka, mangga, jambu atau lainnya. Biasanya ada instruksi "Dilarang" menggambar pohon cemara, pisang, kelapa, umbi-umbian dan beringin. Atau jangan gambar "Beringin" Bukan karena beringin itu mudah digambar, tapi lebih karena sifat beringin sudah dianggap sangat ideal untuk seseorang. Jadi jika anda gambar beringin, anda hanya akan dianggap terlalu sempurna. Beri deskripsi nama pohon yang anda gambar serta deskripsikan pohon apa yang anda gambar.

Ketiga, Ketahuilah makna dari Psikotes Menggambar Pohon agar anda mengerjakannya sesuai dengan karakteristik yang dibutuhkan perusahaan. Tes ini dipergunakan untuk mengetahui tanggung jawab, kepercayaan diri, kestabilan dan ketahanan kerja. Gambar batang pohon yang cukup besar dan terkesan kuat, ini menggambarkan anda seorang yang kuat, dengan daun-daun lebat/rindang, artinya anda menaungi orang-orang di sekitar dan di bawah anda. Tinggi menjulang artinya anda adalah seorang pembelajar yang mempunyai cita-cita dan harapan. Akar yang kuat artinya anda juga punya pegangan hidup dan pendirian, serta buah yang menyimbolkan bahwa sesukses apapun anda, anda tidak melupakan orang-orang di sekitar anda. Test ini termasuk dalam test Grafis. Catatan, bila anda tidak bisa menggambar, jangan kuatir karena yang dinilai bukan pandai tidaknya anda menggambar, melainkan besar-kecil gambar, tarikan garis (tegas atau tidak atau patah-patah), letak gambar (kanan-kiri, atas-bawah, atau center) biasanya Penguji juga bertanya yang digambar itu pohon apa gambar pohon? dan tiap-tiap gambar ada artinya pada Psikotes Menggambar Pohon.

Psikotes Menggambar Rumah

Pembahasan kali ini, Yuk kita intip dan mencari tahu kenapa sih ada uji kepribadian dengan menggambar rumah?, dan ada apa saja sih di balik makna gambar rumah tersebut?.. ya, mungkin saja sebagian besar dari anda pernah mengalaminya atau tidak lulus psikotes gara-gara menganggap sepele tes semacam ini. Nah, supaya tidak terulang dan gagal lagi sekarang kita akan mengetahui pentingnya Psikotes Menggambar Rumah yang dilakukan perusahaan dalam mengukur kepribadian anda.



Contoh 3 : Menggambar Rumah

Bagi perusahaan, sangatlah penting dengan mengetahui latar belakang pribadi calon karyawan/ pegawainya guna mendapatkan sumber daya manusia yang tepat atau sering disebut "The right man in the right place". Psikotes Menggambar Rumah dibuat tidak hanya perusahaan instansi pemerintah seperti PNS, Kepolisian, TNI,

Paket Psikotes Lengkap Dapat Anda Dapatkan Melalui Ebook Psikotes

bahkan Mahasiswa pun di adakan tes ini untuk penerimaannya. Melalui hasil gambar tersebut, ahli psikologi mencoba menginterpretasikan (menafsirkan) seperti apa kepribadian subjek. Jika kepribadian subjek sudah diketahui, berikutnya perusahaan akan lebih mudah mencari dan menempatkan seseorang calon karyawan, supaya sesuai sifat-sifat, karakter yang diperlukan. Kriteria-kriteria itulah yang menjadi landasan para psikolog menginterpretasikan diri subjek yang telah anda gambarkan, seperti apa makna sesungguhnya subjek itu, apakah cerdas, malas, tertekan, bahagia, pendiam, percaya diri, mudah terpengaruh, pendendam, pesimis, ingin dipuji, ambisius, optimis, berpikir dengan kekanak-kanakan, tenang setia, dan kepribadian lain yang bisa diungkap melalui tampilan gambar.

Melalui Psikotes Menggambar Rumah, dapat dijelaskan maknanya bahwa garis dan dinding mewakili ego seseorang. Bila anda membuat garis dan dinding yang terlalu samar menunjukkan ego yang lemah. Sedangkan jika anda membuatnya terlalu tebal menunjukkan kecemasan yang berlebihan. Untuk menggambar bagian atap, hal ini bisa maknai mewakili fantasi. Jika anda terlalu memperhatikan atap, maka artinya anda terlalu memperhatikan fantasi dalam kehidupannya. Berikutnya menggambar bagian Pintu serta jendela mewakili keterbukaan untuk berinteraksi dengan orang lain dan berinteraksi dengan lingkungan. Jika anda menggambar gordin atau penutup jendela lain maka diartikan dia kurang terbuka dan kurang suka berinteraksi dengan orang lain. Pintu dan jendela yang terbuka menandakan orang tersebut sangat terbuka dan sangat suka berinteraksi dengan orang lain.

Dalam beberapa versi Psikotes Menggambar Rumah ada yang mengartikan kalau rumah sebagai gambaran seorang ayah, pohon adalah ibu, dan orang adalah cerminan diri kita sendiri. Semakin besar ukuran objek yang anda gambarkan, maka semakin pula besar pengaruh kepada kehidupannya. Sebagai masukan saja, disaat anda menggambar rumah bisa menambahkan pagar disekeliling rumah. Dengan begitu, diharapkan psikolog akan berpikir bahwa anda adalah pribadi yang memperhatikan keamanan dan cukup waspada.